

# पायाभूत साक्षरता व संख्याज्ञान मूल्यमापन सराव चाचणी (FLNAT-P)(2024-25/3)



फक्त सरावासाठी

उल्लास - नव भारत साक्षरता कार्यक्रम

सराव प्रश्नपत्रिकेसह उत्तरपत्रिका Practice Question cum Answer Booklet (PQAB)

परीक्षा केंद्र क्रमांक									
नोंदणी क्रमांक									
परीक्षा दिनांक									

सर्व परीक्षार्थींचे प्रश्नपत्रिका सोडवताना या पृष्ठावरील माहिती भरण्याची आवश्यकता नाही. सदर पृष्ठ फक्त माहितीस्वरूप आहे.

परीक्षार्थींची

पत्तिका क्रमांक : 1. . . . . 2.

केंद्र संचालकाची स्वाक्षरी

परीक्षार्थींसाठी सूचना (पर्यवेक्षकांनी वाचून समजावून सांगणे.)

- परीक्षार्थींनी वरील माहिती भरणे आवश्यक आहे.
- जर मिळालेली प्रश्नपत्रिका फाटलेली किंवा काही पृष्ठे गहाळ असतील किंवा छपाई स्पष्ट नसेल, तर परीक्षार्थींनी दुसरी प्रश्नपत्रिका घ्यावी.
- प्रश्नपत्रिका बाहेर घेऊन जाण्यास अनुमती नाही.
- प्रत्येक प्रश्नानंतर उत्तरासाठी जागा दिलेली आहे. उत्तर केवळ दिलेल्या जागेतच लिहावे.
- परीक्षार्थींनी उत्तरे लिहिल्यानंतर प्रश्नपत्रिका पर्यवेक्षकांकडे जमा करावी, जागेवरच ठेऊ नये.
- परीक्षेसाठी एकूण वेळ 3 तास असेल.
- प्रश्नपत्रिकेचे एकूण तीन भाग आहेत. भाग क: वाचन, भाग ख: लेखन, भाग ग: संख्याज्ञान . प्रत्येक भाग 50 गुणांचा आहे.
- सर्व प्रश्न आवश्यक आहेत. परीक्षार्थींना प्रश्न किंवा इंग्रजी अंक समजण्यास काही अडचण येत असल्यास पर्यवेक्षकांनी समजावून सांगावे.

प्रश्न क्रमांक आणि प्राप्त गुण			
प्रश्न क्र.	भाग क-50 गुण वाचन	भाग ख-50 गुण लेखन	भाग ग-50 गुण संख्याज्ञान
1			
2			
3			
4			
5			
6			
7			
8			
एकूण			
एकूण गुण -	अक्षरता -		
मूल्यांकनकर्त्याची स्वाक्षरी			

भाग क: वाचन ( एकूण 50 गुण )

प्रश्न 1: दिलेली अक्षरे शब्दांत ओळखून त्या अक्षरांना गोल करा.

1 X 6 = 6





1) ब - बटन अंबर खांब

2) म - मगर समई गरम

प्रश्न 2: रेषा ओढून शब्द व चित्र यांच्या जोड्या लावा.

1 X 5 =

5

पुस्तक	
छत्री	
वजन / माप	
तराजू	
बटन	

प्रश्न 3: खालील चित्रात दिसणाऱ्या चार वस्तूंच्या नावास गोल करा.

2X4=8



मांजर घर सूर्य बुजगावणे चंद्र शेकोटी

प्रश्न 4 : वाक्यांशाचे दोन योग्य भाग रेषेने जोडा.

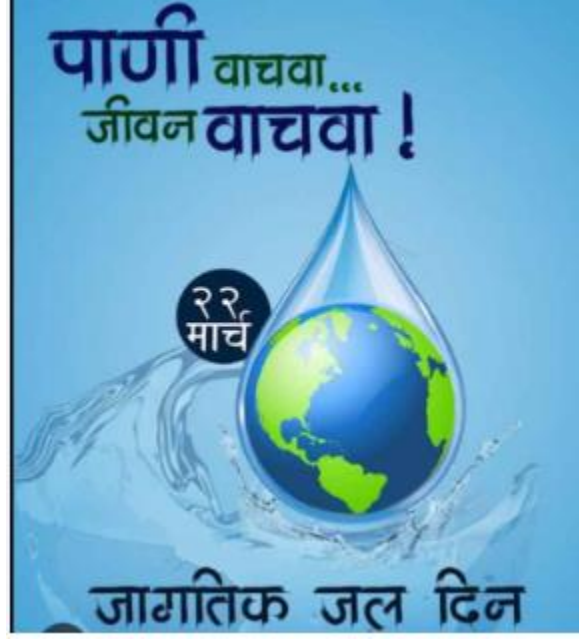
2 X 5 = 10

- १) व्यायाम केल्यानंतर लगेच
- २) बँकेत
- ३) वेळ कधीच
- ४) घराच्या बांधकामात
- ५) जोरदार भूकंपामुळे

- क) एकसारखी राहत नाही.
- ख) पाणी पिऊ नका.
- ग) बचत खाते उघडा.
- घ) घरांची पडझड होते.
- ड) वाळू,विटा,सिमेंट इत्यादी वापरतात .

प्रश्न 5: खाली दिलेले चित्र पाहून योग्य वाक्यांसमोर (✓) व अयोग्य वाक्यांसमोर (x) अशी खूण करा..

3 X 3 = 9



- १) ही जाहिरात जागतिक जल दिनाची आहे. ( )
- २) 22 मार्च हा जागतिक जल दिन आहे.( )
- ३) पाणी भरपूर आहे, त्याचा जपून वापर करू नये . ( )

प्रश्न 6: पुढील उतारा वाचा व दिलेल्या योग्य वाक्यांसमोर (✓) व अयोग्य वाक्यांसमोर (×) अशी खूण करा. 2 X 6 = 12

अन्वीच्या घराजवळ एक विहीर आहे. पावसाळ्यात विहीर पाण्याने भरते. विहिरीच्या आजूबाजूला बरीच मोठी झाडे आहेत. अन्वीने घराजवळ पाणपोई बनवली आहे. लोक येतात, झाडाखाली विसावतात व पाणपोईतील थंड पाणी पितात. यातून अन्वीला आनंद मिळतो.

- १) अन्वीच्या घराभोवती मोठी झाडे आहेत. ( )
- २) पावसाचे पाणी विहिरीत जात नाही. ( )
- ३) लोकांना थंड पाणी मिळते आणि अन्वीला आनंद होतो. ( )
- ४) अन्वीने घराजवळ पाणपोई बनवली आहे..( )
- ५) अन्वीच्या घरापासून विहीर दूर आहे. ( )
- ६) झाडाखाली लोक आराम करतात. ( )

भाग ख: लेखन (एकूण 50 गुण)

प्रश्न 1 : दिलेल्या अक्षरांपासून एक-एक शब्द तयार करून लिहा. 2X3=6

१) फ - .....

२) प - .....

३) स - .....

प्रश्न 2: चित्र पाहून त्याचे नाव लिहा.

2X5=10



.....

.....

.....

.....

प्रश्न 3: खालील कंसातील शब्दातून योग्य शब्द निवडून वाक्य पूर्ण करा . 2X4=8

( कचरा कुंडीत , धूम्रपान , पाणी , पैसे )

१) बँकेत .....जमा करतात.

२) .....जपून वापरावे.

३) .....हे आरोग्यासाठी अपायकारक आहे.

४) कचरा नेहमी .....टाकावा.

प्रश्न 4: दिलेल्या शब्दांपासून वाक्य तयार करा.

3X3=9

१) रांग -----

२) आपत्ती -----

३) बँक -----

प्रश्न 5: रेशन दुकानातून धान्य खरेदी करताना लक्ष द्यावयाच्या कोणत्याही दोन बाबी लिहा .

1X2=2

१) -----

-----

२) -----

-----

प्रश्न 6: चित्र पहा व चित्रासंबंधी पाच वाक्ये लिहा.

3X5=15



क)-----

ख)-----

ग)-----







घ)-----

ड)-----



प्रश्न 1 : चित्रे व संख्या यांच्या जोड्या जुळवा .

1X6=6

	16
	9
	11
	15
	10
	8

प्रश्न 2 : क्रम पूर्ण करा.

1X 5=5

क) 10, \_\_\_\_\_, 16, 19, 22

ख) 60, 65, \_\_\_\_\_, 75, 80







ग) 100, \_\_\_\_\_, 140, 160, 180

घ) 300, 250, 200, 150, \_\_\_\_\_

ड) 40, 50, \_\_\_\_\_, 70, 80

प्रश्न 3: वस्तूच्या किमतीशी नोटा व नाण्यांच्या जोड्या लावा.

1X 3=3

 <p>₹ 320</p>	
 <p>₹ 90</p>	
 <p>₹ 280</p>	

प्रश्न 4 : उदाहरणे सोडवा.

2X 4=8

क)  $\begin{array}{r} 28 \\ +14 \\ \hline \end{array}$

.....

ख)  $\begin{array}{r} 49 \\ -30 \\ \hline \end{array}$

-----

ग)  $\begin{array}{r} 31 \\ \times 4 \\ \hline \end{array}$

घ)  $9 \overline{)63}$

-----

प्रश्न 5: सोडवा

क) एक लीटर दुधाच्या बाटलीची किंमत 45 रू. आहे तर अशा 9 दुधाच्या बाटल्यांची किंमत किती होईल ?

1X4=4

ख) सीमाने 50 रू.चे आंबे व 40 रू.चे सफरचंद विकत घेतले तर तिने एकूण किती रू. खर्च केले ?

1X4=4

प्रश्न 6 : रिकाम्या जागी योग्य शब्द लिहा.

2X4=8

क) 5 रु. = ----- पैसे.


ख) 3 किलोमीटर = ----- मीटर.

ग) 200 पैसे = ----- रूपये.

घ) 600 सेंटीमीटर = ----- मीटर.

प्रश्न 7 : दिलेल्या घड्याळातील वेळ पाहून लिहा.

2X4=8



.....वाजून .....मिनिट

.....वाजून .....मिनिट

प्रश्न 8. दिनदर्शिका पहा व प्रश्नाची उत्तरे लिहा.

1X4=4



- १) या महिन्यात एकूण किती दिवस आहेत ? -----
- २) या महिन्यात 5 तारखेला कोणता दिवस आहे ? -----
- ३) या महिन्यात एकूण किती शुक्रवार आहेत ? -----
- ४) या महिन्यातील शेवटची तारीख कोणती आहे ? -----